

Kod ucznia

Liczba punktów

**WOJEWÓDZKI KONKURS GEOGRAFICZNY
DLA UCZNIÓW DOTYCHCZASOWYCH GIMNAZJÓW
W ROKU SZKOLNYM 2018/2019
STOPIEŃ REJONOWY – 02.01.2019r.**

1. Test konkursowy zawiera 35 zadań. Są to zadania zamknięte i otwarte. Na ich rozwiązanie masz 90 minut. Sprawdź, czy test jest kompletny.
2. Zanim udzielisz odpowiedzi, uważnie przeczytaj treść zadania.
3. Wszystkie odpowiedzi czytelnie i wyraźnie wpisuj w wyznaczonych miejscach.
4. Przy rozwiązywaniu zadań zamkniętych wyboru wielokrotnego wybierz jedną, prawidłową odpowiedź i zaznacz ją krzyżykiem, np.:

A

☒

C

D

Jeżeli się pomylił i zechcesz wybrać inną odpowiedź, to złe zaznaczenie otocz kółkiem ☒, po czym skreśl właściwą literę, np.:

A

☒

☒

D

5. W innych zadaniach samodzielnie sformułuj odpowiedź i wpisz ją lub wykonaj zadanie zgodnie z instrukcją zawartą w poleceniu. Przedstaw tok rozumowania prowadzący do wyniku.
6. Test wypełniaj długopisem, nie używaj korektora, ołówka ani gumki. Nie komunikuj się z innymi uczestnikami konkursu.
7. Podczas rozwiązywania zadań możesz korzystać z linijki, kątomierza i kalkulatora.
8. Sprawdź wszystkie odpowiedzi przed oddaniem testu.
9. Nie podpisuj testu, zostanie on zakodowany.
10. Brudnopis, dołączony do testu, nie podlega ocenie.

Zadanie 1. (1 p.)

Poniżej podano średnią temperaturę powietrza atmosferycznego w styczniu, zmierzoną w czterech stacjach meteorologicznych leżących na tej samej szerokości geograficznej. Która z nich jest najbardziej oddalona od morza?

- A. -16°C
- B. -3°C
- C. 7°C
- D. 4°C

Zadanie 2. (1 p.)

Poniżej podano pięć dat. Podkreśl te dni, w których na równiku można spodziewać się intensywnych deszczy zenitalnych.

- A. 20 grudnia
- B. 21 marca
- C. 12 lipca
- D. 23 września
- E. 1 stycznia

Zadanie 3. (2 p.)

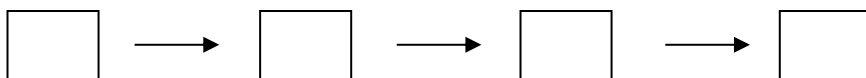
W podanych zdaniach opisujących południowo-zachodnie wybrzeża Afryki skreśl błędne informacje.

Na środowisko przyrodnicze Afryki wpływ mają prądy morskie. Wzdłuż wybrzeża południowo-zachodniego płynie *ciepły* / *zimny* prąd *Benguelski* / *Agulhas*. Roczna suma opadów atmosferycznych na wybrzeżach tej części kontynentu jest *znikoma* / *duża*. Występujące tu gleby *w początkowym stadium rozwoju* / *laterytowe* porasta roślinność *pustynna* / *śródziemnomorska*.

Zadanie 4. (1 p.)

Podane niżej informacje wpisz w odpowiednie miejsca schematu, tak aby utworzyć model przyczynowo-skutkowy pustynnienia obszaru Sahelu.

1. wzrost zapotrzebowania na żywność
2. powiększenie stad zwierząt hodowlanych
3. duży przyrost naturalny i wzrost liczby ludności
4. nadmierny wypas i degradacja pastwisk



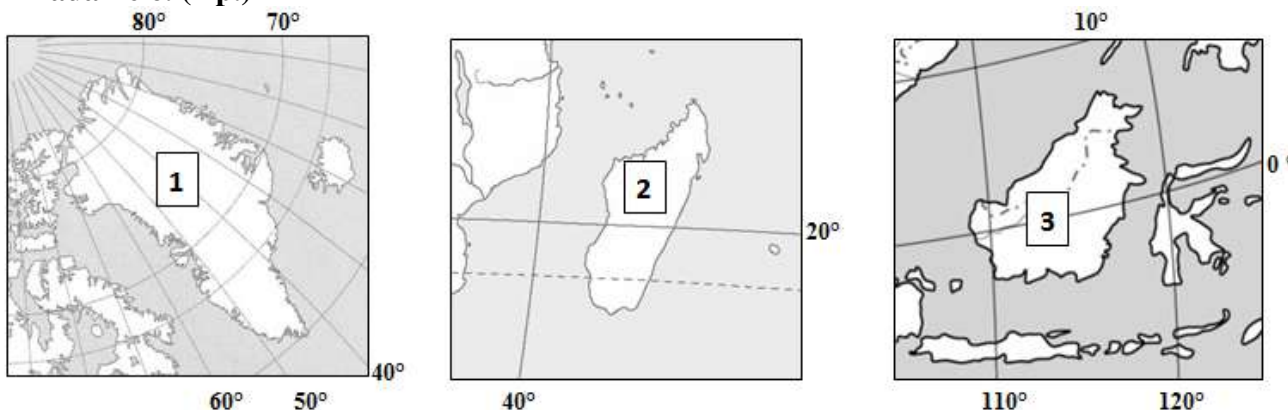
Zadanie 5. (3 p.)

Każdą z rzek wymienionych poniżej przyporządkuj do akwenu, do którego ona uchodzi. Nazwy rzek wpisz do odpowiednich rubryk tabeli.

Morze Bałtyckie	Morze Czarne	Morze Kaspijskie	Morze Północne

Rzeki: Dunaj, Łaba, Dniepr, Tamiza, Ren, Wołga, Odra, Niemen, Ural,

Zadanie 6. (1 p.)



Powyższe ilustracje przedstawiają trzy z czterech największych wysp świata. Wyspy te to:

- A. 1- Grenlandia, 2- Borneo, 3- Nowa Gwinea.
- B. 1- Grenlandia, 2- Borneo, 3- Madagaskar.
- C. 1- Grenlandia, 2- Madagaskar, 3- Borneo.
- D. 1- Grenlandia, 2- Nowa Gwinea, 3- Borneo.

Zadanie 7. (2 p.)

Połącz cechy Japonii ze skutkami charakteryzującymi gospodarkę i życie codzienne Japończyków. Jeden skutek pozostanie bez przyporządkowania.

- a. Kraj wyspiarski.
- b. Górskie i wyżynne ukształtowanie powierzchni.
- c. Położenie kraju w strefie subdukcji.
- d. Wysoki poziom nauki i techniki.

- 1. Długi czas życia Japończyków.
- 2. Rozwój handlu morskiego i przemysłu stocznioowego.
- 3. Ograniczenie możliwości rozwoju rolnictwa.
- 4. Rozwój robotyki i nowoczesnej gospodarki.
- 5. Zagrożenie występowania trzęsień Ziemi i fal tsunami.

a -

b -

c -

d -

Zadanie 8. (2 p.)

Zaznacz w każdym wierszu tabeli poprawne dokończenie zdania.

1.	Jednym z podstawowych obowiązków każdego muzułmanina jest modlitwa, którą trzeba odmawiać	A. co godzinę.
		B. pięć razy w ciągu doby.
2.	Świętą księgą islamu jest	A. Koran.
		B. Tora.
3.	Wyznawców islamu obowiązuje zakaz spożywania	A. wieprzowiny.
		B. baraniny.
4.	Każdy muzułmanin powinien co najmniej raz w życiu udać się na pielgrzymkę do	A. Mekki.
		B. Jerozolimy.

Zadanie 9. (1 p.)

Ognisty Pierścień Pacyfiku nie obejmuje wybrzeży

- A. Azji.
- B. Afryki.
- C. Ameryki Północnej.
- D. Ameryki Południowej.

Zadanie 10. (2 p.)

Skreśl w poniższych zdaniach błędne informacje.

1. W wyniku kolizji płyty oceanicznej z płytą kontynentalną powstają góry *faldowe* / *zrębowe*.
2. Trzęsienia ziemi i aktywność wulkaniczna są *przyczyną* / *skutkiem* ruchu płyt litosfery.
3. Podczas erupcji wulkanu na powierzchnię Ziemi wydostają się gazy, popioły oraz *lawa* / *magma*.

Zadanie 11. (2 p.)

Zaznacz sformułowania, które prawidłowo charakteryzują technopolie.

- A. Bazują na przemyśle wysokich technologii.
- B. Zlokalizowane są na obszarach o dużym bezrobociu.
- C. Nie wymagają dobrze rozbudowanej infrastruktury komunikacyjnej.
- D. Działają w oparciu o współpracę z kompleksami instytucji naukowych i laboratoriów.
- E. Położone są w czystym środowisku przyrodniczym.
- F. Lokalizowane są w pobliżu bogatej bazy surowców metalicznych.

Zadanie 12. (1 p.)

Zaznacz dwie właściwe odpowiedzi.

Przez obszary bezodpływowe w **Azji** płyną rzeki

- A. Wołga.
- B. Ganges.
- C. Mekong.
- D. Syr-daria.
- E. Amu-daria.
- F. Kołyma.

Zadanie 13. (2 p.)

Turyści poruszający się przez Saharę podczas postoju odczytali swoje współrzędne (21°00' N, 14°21' W). Oblicz, w jakiej odległości od bieguna południowego znajdują się turyści. Odpowiedź podaj w kilometrach.

Miejsce na obliczenia:

Odpowiedź:

.....

Zadanie 14. (1 p.)

Punkty skrajne Australii najdalej wysunięte na wschód i na zachód mają następujące długości geograficzne: $113^{\circ}09'$ E oraz $153^{\circ}42'$ E. Kontynent ten rozciąga się w trzech strefach czasowych. Wypisz wartości południków środkowych tych stref czasowych.

.....

Zadanie 15. (2 p.)

Z lotniska Chopina w Warszawie (52°N , 21°E) wystartował samolot o godzinie 9.00 czasu słonecznego. Lądowanie nastąpiło w Nowym Jorku (41°N , 74°W) o godzinie 12.40 czasu słonecznego. Oblicz, jak długo leciał samolot.

Obliczenia:

Odpowiedź:

Zadanie 16. (2 p.)

Oblicz (z dokładnością do jednej minuty kątowej), jaka jest różnica wysokości górowania Słońca w dniu równonocy wiosennej między São Paulo ($23^{\circ}32'\text{S}$, $46^{\circ}37'\text{W}$) a Suwałkami ($54^{\circ}05'\text{N}$, $22^{\circ}56'\text{E}$).

Obliczenia:

Odpowiedź:

.....

Zadanie 17. (2 p.)

Wpisz nazwy stref oświetlenia Ziemi, w których położone są wymienione poniżej miejsca.

Nowa Zelandia -

Nowa Ziemia -

Nowa Gwinea -

Jezioro Wiktorii -

Zadanie 18. (2 p.)

Poniżej wymieniono obiekty geograficzne zgodnie z kryterium ich położenia geograficznego. W każdym wierszu skreśl obiekt, który nie spełnia kryterium przyporządkowania.

1. Karpaty, Harz, Rudawy, Atlas
2. Lena, Peczora, Dunaj, Wisła
3. Niz. Turańska, Niz. Chińska, Niz. Orinoko, Niz. Mezopotamska

Zadanie 19. (2 p.)

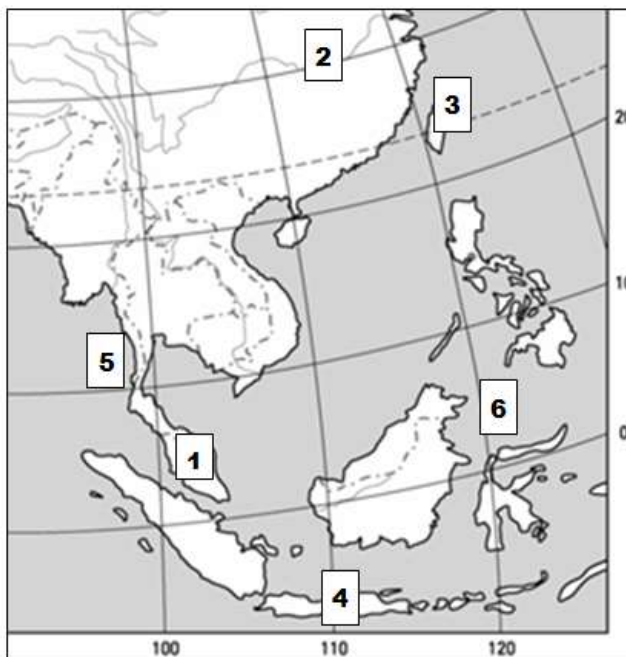
W wyznaczone miejsca wpisz nazwy właściwych obiektów geograficznych.

- Najwyższa wyżyna Azji i świata -
- Najgłębsza depresja Azji i świata -
- Najzasobniejsze w wodę słodką jezioro Azji i świata -
- Największy powierzchniowo kraj Azji i świata -

Zadanie 20. (2 p.)

Rozpoznaj zaznaczone na mapie obiekty geograficzne Azji.

- 1 – Półwysp
- 2 – Rzeka
- 3 – Wyspa
- 4 – Wyspa
- 5 – Morze
- 6 – Morze



Zadanie 21. (1 p.)

Zaznacz punkt, w którym wymienione są najbardziej cenione drzewa Puszczy Amazońskiej.

- A. Sekwoje i mahoniowce.
- B. Mahoniowce i cisy.
- C. Mahoniowce i drzewa palisandrowe.
- D. Dęby korkowe i mahoniowce.

Zadanie 22. (2 p.)

Wśród wymienionych miast podkreśl nazwy tych, które są stolicami państw.

Kalkuta, Amsterdam, Haga, Canberra, Nowy Jork, Sydney, Rio de Janeiro, Ryga, Brasilia

Zadanie 23. (1 p.)

Do gatunków zwierząt hodowlanych dobierz kraj, w którym ich pogłowie jest największe.

- | | |
|-----------|--------------|
| a - bydło | 1 - Niemcy |
| b - owce | 2 - Brazylia |
| | 3 - Chiny |
| | 4 - Japonia |

a - b -

Zadanie 24. (2 p.)

Przyporządkuj wymienionym regionom Europy cechy ich gospodarki. Wpisz do tabeli litery, którymi oznaczono te cechy.

- A. Posiadają bardzo dobrze rozwiniętą infrastrukturę turystyczną.
- B. Mają bardzo dobrze rozwinięty przemysł drzewny.
- C. Eksploatuje się tam złoża ropy naftowej.
- D. Słyną z przemysłu farmaceutycznego.
- E. Ogromną rolę w gospodarce tych krajów odgrywają usługi finansowe.

Kraje Skandynawskie -

Kraje Alpejskie -

Zadanie 25. (2 p.)

Wykonaj poniższe polecenia korzystając z danych zawartych w tabeli.

Bilans handlu zagranicznego Francji i Niemiec w 2016 roku.

Wyszczególnienie	Francja	Niemcy
	W mld dol. USA	W mld dol. USA
Import	573,0	1054,9
Eksport	501,3	1339,6
Saldo handlu zagranicznego		

- I. Oblicz saldo handlu zagranicznego wymienionych państw w 2016 roku i wpisz jego wartość do tabeli.
- II. Napisz poniżej, które państwo, Francja czy Niemcy, miało korzystniejsze saldo handlu zagranicznego.

Korzystniejsze saldo handlu zagranicznego w 2016 roku było w/we

Zadanie 26. (1 p.)

Utwórz poprawne dokończenie zdania. Wybierz odpowiedź 1 lub 2 oraz uzasadnienie A lub B.

Przeważająca część gospodarstw rolnych we Francji reprezentuje typ rolnictwa

1.	intensywnego o dużej towarowości,	charakteryzującego się	A.	wysokim poziomem mechanizacji i chemizacji.
2.	ekstensywnego o dużej towarowości,		B.	małym zużyciem nawozów sztucznych i bardzo dużymi zbiorami z olbrzymich terenów.

Zadanie 27. (2 p.)

W zamieszczonym tekście skreśl błędne wyrażenia opisujące Indie.

Indie to kraj, który pod względem wielkości powierzchni zajmuje *siódme* / *siedemnaste* miejsce w świecie. Większość terytorium tego państwa leży w klimacie *zwrotnikowym monsunowym* / *podzwrotnikowym morskim*, który sprzyja uprawie *pszenicy* / *ryżu* w tym kraju. W ostatnim okresie czasowym rozwija się tam *górnictwo* / *przemysł high-tech*. Węgiel kamienny wydobywa się *we wschodniej* / *w zachodniej* części Indii w *Okręgu Damodar* / *Bangalur*.

Zadanie 28. (2 p.)

Na poniższej mapie oznaczono wybrane państwa świata.
Zapisz nazwy tych państw.

1 -

2 -

3 -



Zadanie 29. (1 p.)

Podkreśl nazwę jeziora, które nie jest częścią systemu Wielkich Jezior.

Huron, Ontario, Erie, Winnipeg, Michigan

Zadanie 30. (2 p.)

Oceń prawdziwość zdań.

		P	F
1.	Antarktyka obejmuje Antarktydę wraz z lądolodami oraz otaczającymi ją wodami i wyspami, czyli obszar położony na północ od równoleżnika 60° N.		
2.	Na biegunie południowym dzień polarny trwa od 23 września do 21 marca.		
3.	Środowisko przyrodnicze Antarktydy zostało znacznie przekształcone w wyniku wydobycia surowców mineralnych.		

Zadanie 31. (2 p.)

Do wymienionych cech klimatu różnych regionów Ameryki dobierz właściwe czynniki klimatotwórcze. Jeden z czynników pozostanie bez przyporządkowania.

Cechy klimatu:

- Wysokie opady na Nizinie Amazonki.
- Skrajnie niskie opady na pustyni Atakama.
- Niskie wartości temperatury powietrza w wyższych partiach Andów.
- Niskie wartości temperatury powietrza na Grenlandii.

Czynniki klimatotwórcze:

- Duża wysokość nad poziomem morza.
- Ciepły Prąd Zatokowy.
- Położenie w wysokich szerokościach geograficznych.
- Położenie w strefie niżów równikowych.
- Chłodny Prąd Peruwiański.

a -

b -

c -

d -

Zadanie 32. (1 p.)

Wybierz zdanie, które zawiera prawdziwe informacje dotyczące Chin.

- Rozciągłość równoleżnikowa Chin wynosi 40° .
- Chiny graniczą od południa z Mongolią.
- Wszystkie miasta w Chinach mają długość geograficzną wschodnią a szerokość geograficzną północną.
- Większość rzek w Chinach płynie ze wschodu na zachód.

Zadanie 33. (2 p.)

Na obszarze których państw sąsiadujących z Polską leżą wymienione krainy geograficzne? W niektórych przypadkach należy wpisać więcej niż jedno państwo.

Rudawy –

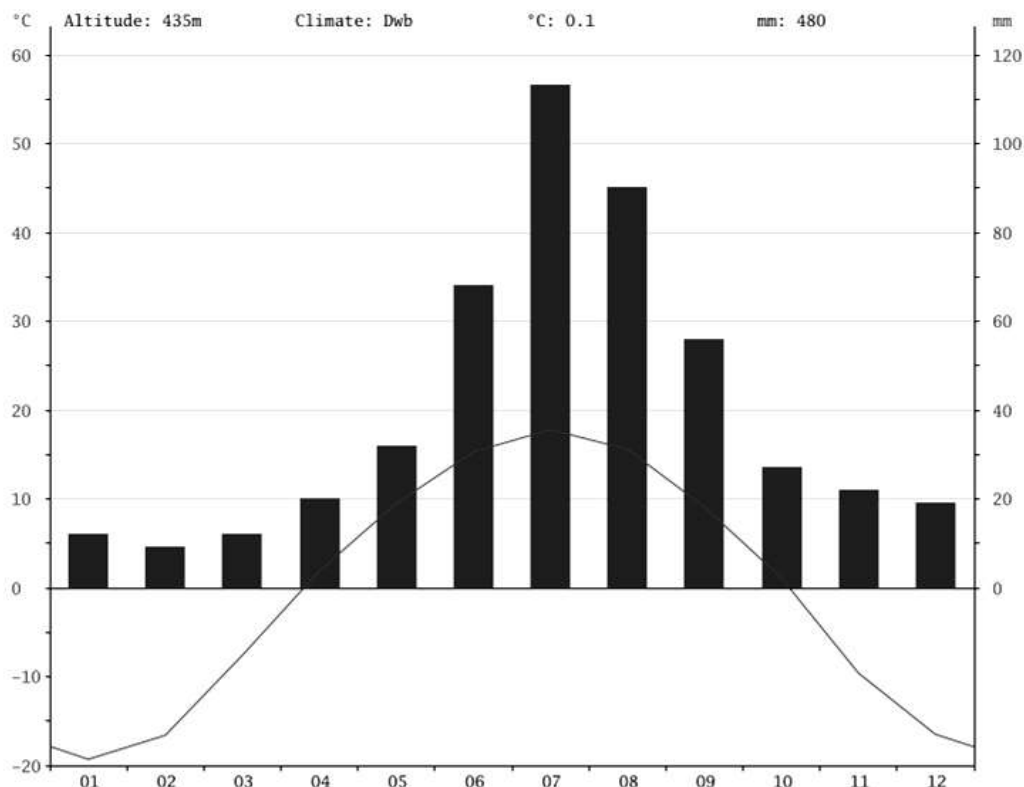
Sudety –

Tatry –

Polesie –

Zadanie 34. (3 p.)

I. Dla której formacji roślinnej charakterystyczny jest poniższy klimatogram?



- A. wilgotny las równikowy
- B. tajga
- C. tundra
- D. las monsunowy

II. Rozpoznaj po opisie formację roślinną. Zapisz jej nazwę w wyznaczonym miejscu.

1. Obejmuje najdalej na północ wysunięte obszary Azji. Grunt jest przemarznięty przez większość roku, w miesiącach ocieplenia rozmarza do głębokości 1-2 metrów. Uniemożliwia to wsiąkanie wody z roztopionego lodu i śniegu, dlatego na tym obszarze powstają rozległe bagna. –
2. Obejmuje pas terenu w środkowej, zachodniej i południowo-zachodniej Azji. Występują tu bardzo żyzne czarnoziemy. Wśród zwierząt dominują ssaki kopytne, takie jak koń, antylopa, gazela. Ponieważ trawa jest naturalnym pożywieniem bydła, bardzo często obszar wykorzystywany jest jako pastwisko dla licznych stad krów. –
3. Obejmuje obszary południowo-wschodniej Azji, a zwłaszcza południowych Chin. Występują tu większe opady niż w lesie monsunowym, ale występuje dość zauważalna amplituda temperatury powietrza i co najmniej kilka miesięcy o mniejszych opadach. Charakterystycznym gatunkiem w tym miejscu jest panda. –

Zadanie 35. (2 p.)

Przy każdym opisie wpisz nazwę właściwego kraju położonego w Europie Południowej, w którym dostęp do morza (oceanu) stał się jednym z czynników rozwoju turystyki.

1. Górzysty kraj położony między Adriatykiem a Morzem Tyrreńskim, o bardzo długiej linii brzegowej, pełen zabytków cywilizacji starożytnej. Piękne, stare miasta, z licznymi zabytkami różnych stylów, uznawany za kolebkę renesansu.

Kraj

2. Kraj o wybrzeżu dalmatyńskim, pełnym zatok, kanałów i wysp, zachęcających do żeglugi. Atrakcją turystyczną są też jaskinie i inne formy rzeźby krasowej.

Kraj

3. Kraj o największej liczbie turystów w skali świata. Przyciąga turystów zróżnicowanie warunków naturalnych: wysokie góry, słoneczne wybrzeża, strome klify. Carcassonne to największa europejska twierdza, która przetrwała do naszych czasów.

Kraj

4. Kraj o największej ilości zabytków starożytności, są wśród nich pałace i zamki, ruiny starożytnych świątyń. Jednym z ciekawszych miejsc w tym kraju są Meteory. Na ich szczycie wznoszą się prawosławne klasztory. Liczne atrakcje czekają również na pięknych wyspach. Można uprawiać tam wiele sportów wodnych, odbywać morskie wycieczki.

Kraj

Brudnopis (nie jest sprawdzany)