

Kod ucznia

Liczba punktów

**WOJEWÓDZKI KONKURS GEOGRAFICZNY
DLA UCZNIÓW SZKÓŁ PODSTAWOWYCH
W ROKU SZKOLNYM 2022/2023
STOPIEŃ WOJEWÓDZKI**

1. Test konkursowy zawiera 31 zadań. Są to zadania zamknięte i otwarte. Na ich rozwiązanie masz 90 minut. Sprawdź, czy test jest kompletny.
2. Zanim udzielisz odpowiedzi, uważnie przeczytaj treść zadania.
3. Wszystkie odpowiedzi czytelnie i wyraźnie wpisuj w wyznaczonych miejscach.
4. Przy rozwiązywaniu zadań zamkniętych wyboru wielokrotnego wybierz jedną, prawidłową odpowiedź i zaznacz ją krzyżykiem, np.:

A ✕ C D

Jeżeli się pomylisz i zechcesz wybrać inną odpowiedź, to złe zaznaczenie otocz kółkiem (✕), po czym skreśl właściwą literę, np.:

A (✕) ✕ D

5. W innych zadaniach samodzielnie sformułuj odpowiedź i wpisz ją lub wykonaj zadanie zgodnie z instrukcją zawartą w poleceniu. Przedstaw tok rozumowania prowadzący do wyniku.
6. Test wypełniaj długopisem, nie używaj korektora, ołówka ani gumki. Nie komunikuj się z innymi uczestnikami konkursu.
7. Podczas rozwiązywania zadań możesz korzystać z kalkulatora.
8. Sprawdź wszystkie odpowiedzi przed oddaniem testu.
9. Nie podpisuj testu, zostanie on zakodowany.
10. Brudnopis, dołączony do testu, nie podlega ocenie.

Zadanie 1. (1 p.)

Cienkie i puste w środku stalaktyty to

- A. makarony.
- B. pola ryżowe.
- C. stalagmity.
- D. draperie naciekowe.

Zadanie 2. (1 p.)

Najgłębsza jaskinia świata położona jest w

- A. Alpach.
- B. Górach Skalistych.
- C. Górach Dynarskich.
- D. paśmie Kaukazu.

Zadanie 3. (1 p.)

Największa pod względem objętości jaskinia znajduje się w

- A. Meksyku.
- B. Stanach Zjednoczonych.
- C. Wietnamie.
- D. Chinach.

Zadanie 4. (1 p.)

Pampa jest krainą geograficzną położoną na obszarze

- A. Brazylii.
- B. Wenezueli.
- C. Argentyny.
- D. Peru.

Zadanie 5. (1 p.)

Pierwsza technopolia, która powstała na terenie Stanów Zjednoczonych to

- A. Boston.
- B. Dolina Krzemowa.
- C. Orange Country.
- D. Austin.

Zadanie 6. (1 p.)

Wilgotne lasy równikowe porastające Nizinę Amazonki są nazywane

- A. prerią.
- B. tajgą.
- C. selwą.
- D. pampą.

Zadanie 7. (1 p.)

Indianie zaliczani są do odmiany

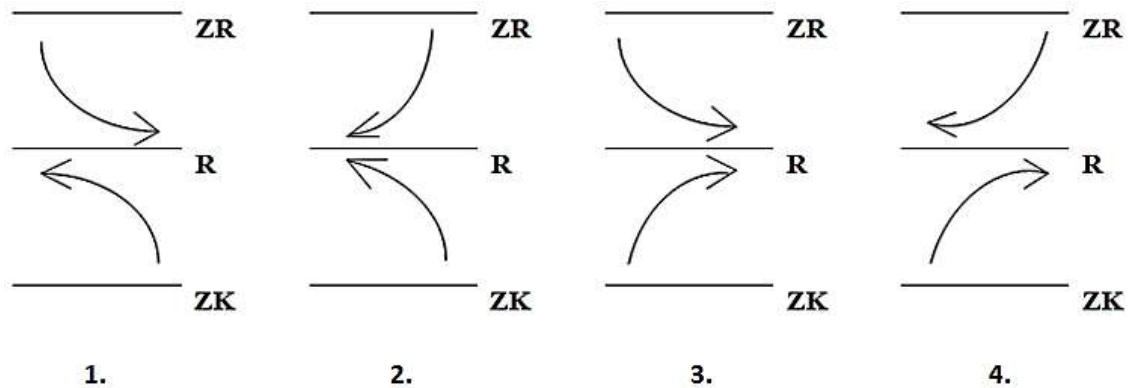
- A. białej.
- B. żółtej.
- C. czarnej.
- D. mieszanej.

Zadanie 8. (1 p.)

W Australii prowadzi się głównie chów

- A. owiec i bydła.
- B. koni i kóz.
- C. bydła i koni.
- D. kóz i trzody chlewnej.

Zadanie 9. (1 p.)



ZR – Zwrotnik Raka
 R – Równik
 ZK – Zwrotnik Koziorożca

Układ pasatów w strefie międzyzwrotnikowej prawidłowo obrazuje schemat

- A. 1.
- B. 2.
- C. 3.
- D. 4.

Zadanie 10. (1 p.)

Wśród wymienionych poniżej obszarów Chin najgęściej zaludniona jest

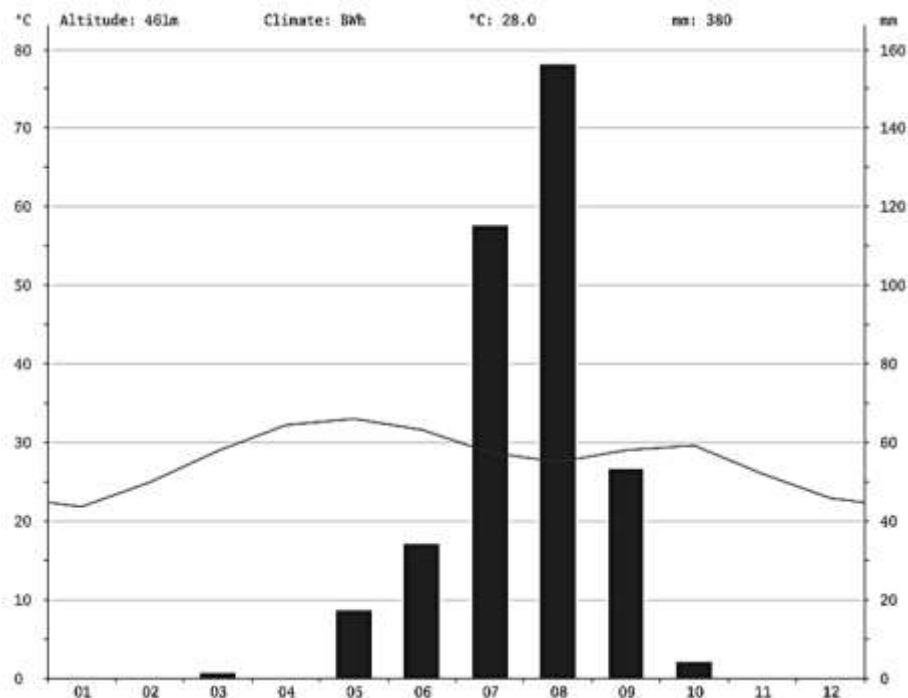
- A. Kotlina Syczuańska.
- B. Kunlun.
- C. Kotlina Tarymska.
- D. Wyżyna Tybetańska.

Zadanie 11. (1 p.)

Jednym ze zwierząt zaliczanych do Wielkiej Afrykańskiej Piątki jest

- A. wielbłąd.
- B. hipopotam.
- C. lew.
- D. żyrafa.

Zadania 12–13 wykonaj na podstawie poniższego klimatogramu oraz własnej wiedzy.



Zadanie 12. (1 p.)

Klimatogram przedstawia dane charakterystyczne dla klimatu

- A. podzwrotnikowego morskiego.
- B. zwrotnikowego suchego.
- C. równikowego wybitnie wilgotnego.
- D. podrównikowego.

Zadanie 13. (1 p.)

W strefie klimatycznej, dla której wykonano diagram klimatyczny, występują:

- A. wilgotny las równikowy oraz gleby czerwonożółte.
- B. sawanna oraz gleby cynamonowoczerwone i czerwonebure.
- C. roślinność śródziemnomorska oraz gleby cynamonowe.
- D. pustynia oraz szaroziemie.

Zadanie 14. (1 p.)

Silicon Plateau położony jest w okolicach miasta

- A. Delhi.
- B. Mumbaj.
- C. Kalkuta.
- D. Bangalur.

Zadanie 15. (1 p.)

Utwórz poprawne zdanie. Zaznacz odpowiedź A lub B.

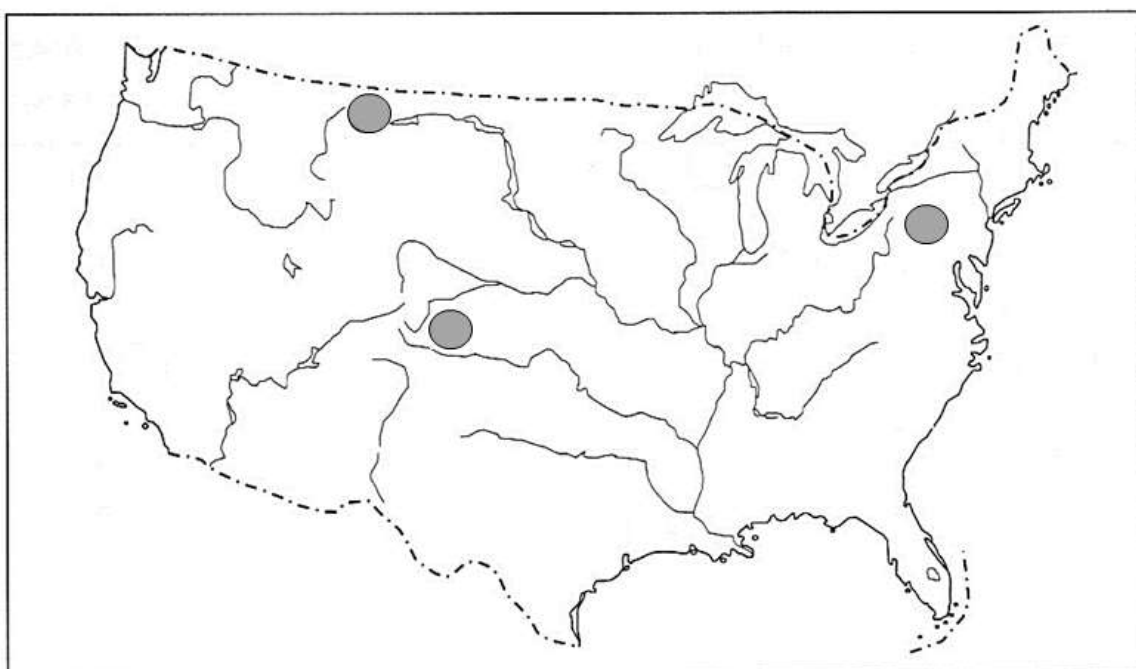
Paweł przyleciał z Warszawy do Nowego Jorku.

Na lotnisku w Nowym Jorku, aby posługiwać się czasem obowiązującym w tym mieście, powinien	A.	przesunąć wskazówki zegara do przodu, czyli dodać 6 godzin.
	B.	cofnąć wskazówki zegara, czyli odjąć 6 godzin.

Zadanie 16. (2 p.)

Zaznacz, które z poniższych informacji są prawdziwe, a które fałszywe, wpisując przy każdej informacji znak „X” we właściwej kolumnie tabeli (Prawda/Fałsz).

I.p.	Informacja	Prawda	Fałsz
1.	Cyklony tropikalne występujące na zachodnim Atlantyku i wschodnim Pacyfiku nazywane są tajfunami.		
2.	Megalopolis Wielkich Jezior (ChiPitts) obejmuje miasta Boston i Washington.		
3.	Charakterystyczną cechą ukształtowania powierzchni Stanów Zjednoczonych jest południkowy układ rzeźby terenu.		

Zadanie 17. (1 p.)

Zapisz nazwę surowca mineralnego wydobywanego w USA w miejscach wskazanych na powyższej mapie.

Zadanie 18. (1 p.)

Utwórz poprawne zdanie. Zaznacz odpowiedź A lub B oraz uzasadnienie 1 lub 2.

Na przebieg północnej granicy upraw i lasów w Kanadzie wpływa w dużym stopniu ciepły prąd morski

A.	Północnoatlantycki,	który opływa	1.	wschodnie wybrzeża Ameryki Północnej.
B.	Północnopacyficzny,		2.	zachodnie wybrzeża Ameryki Północnej.

Zadanie 19. (2 p.)

Wybierz poprawne dokończenie każdego zdania, zaznaczając odpowiedź A lub B.

1.	Jezioro Bajkał to	A.	największe powierzchniowo jezioro świata.
		B.	najzasobniejszy zbiornik wody słodkiej na Ziemi.
2.	Największym półwyspem świata jest	A.	Półwysep Arabski.
		B.	Półwysep Indyjski.
3.	W okolicach Czerapuńdźi	A.	odnotowano najwyższe roczne sumy opadów atmosferycznych.
		B.	występuje największe zróżnicowanie gatunkowe lasów równikowych na Ziemi.

Zadanie 20. (2 p.)

Zapisz nazwy przedstawionych na zdjęciach najważniejszych roślin uprawianych w Azji.



1. _____



2. _____



3. _____



4. _____

Zadanie 21. (1 p.)

Wyjaśnij, dlaczego w Japonii występują zjawiska wulkaniczne i trzęsienia Ziemi.

Zadanie 22. (2 p.)

Zaznacz, które z poniższych informacji są prawdziwe, a które fałszywe, wpisując przy każdej informacji znak „X” we właściwej kolumnie tabeli (Prawda/Fałsz).

I.p.	Informacja	Prawda	Fałsz
1.	Najważniejsze surowce mineralne wydobywane na Bliskim Wschodzie to ropa naftowa i gaz ziemny.		
2.	Japoński przemysł przetwórczy bazuje na lokalnych surowcach mineralnych.		
3.	Wśród roślin przemysłowych i użytków uprawianych w Chinach najmniejsze znaczenie ma bawełna, herbata i trzcina cukrowa.		

Zadanie 23. (1 p.)

Wypisz trzy cechy monsunu letniego.

— _____

— _____

— _____

Zadanie 24. (2 p.)

Uzupełnij tabelę, wpisując w odpowiednie kolumny podane poniżej określenia dotyczące Arktyki lub Antarktyki.

Masyw Vinsona
tundra
światowy rekord zimna
niedźwiedź polarny
pingwin
brak stałego osadnictwa
wydobywanie surowców mineralnych

Arktyka	Antarktyka

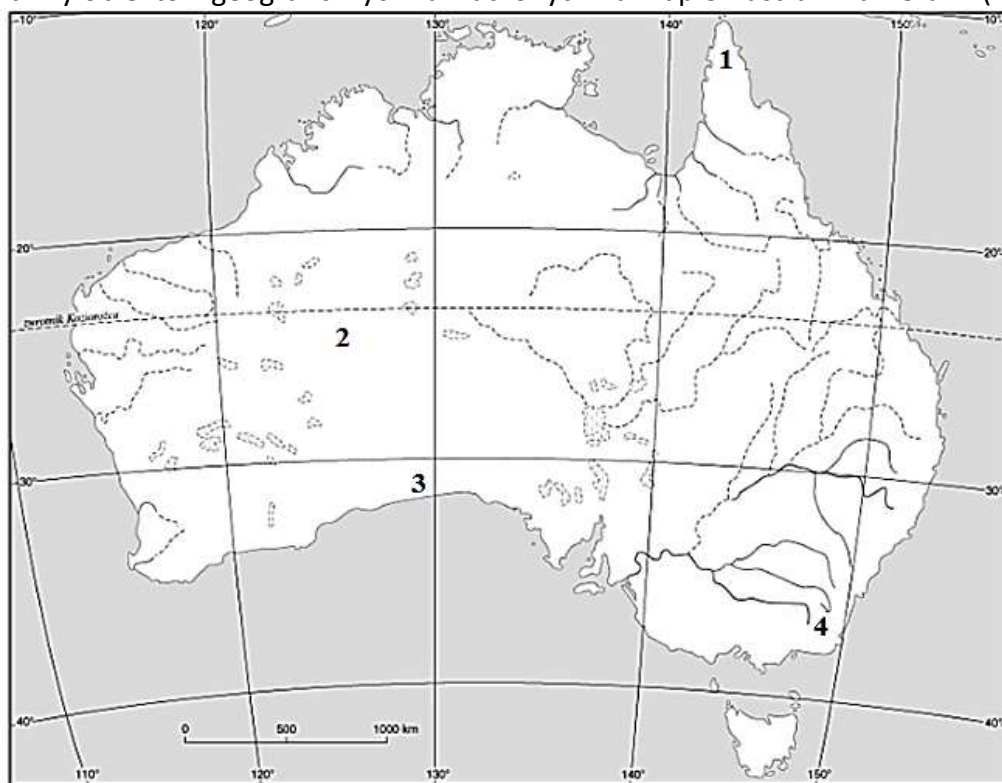
Zadanie 25. (2 p.)

W poniższych zdaniach **podkreśl** poprawne informacje dotyczące rolnictwa Afryki.

1. Duże ilości nawozów sztucznych stosuje się w Afryce w rolnictwie **zarowo-odłogowym / plantacyjnym**.
2. W Afryce przeważają **małe / ogromne** gospodarstwa rolne.
3. Na afrykańskich plantacjach uprawia się głównie **proso i sorgo / bananowce i kakaowce**.

Zadanie 26. (2 p.)

Zapisz nazwy obiektów geograficznych zaznaczonych na mapie Australii numerami (1-4).



1 – Półwysep _____

2 – Pustynia _____

3 – Nizina _____

4 – Góra _____

Zadanie 27. (1 p.)

Oblicz temperaturę powietrza na szczycie o wysokości 4150 m n.p.m., jeśli na wysokości 1850 m n.p.m. wynosi ona -3°C . Przyjmij, że zmiany temperatury następują o $0,6^{\circ}\text{C}/100\text{ m}$. Zapisz wszystkie działania prowadzące do właściwego wyniku.

Odpowiedź: _____

Zadanie 28. (1 p.)

Oblicz gęstość zaludnienia Kenii. Przyjmij, że powierzchnia tego kraju wynosi 580 370 km², a liczba ludności 53 mln. Zapisz działanie prowadzące do właściwego wyniku.

Odpowiedź: _____

Zadanie 29. (1 p.)

Podpisz przedstawione na fotografiach formy naciekowe występujące w jaskiniach.



1. _____

2. _____

Zadanie 30. (2 p.)

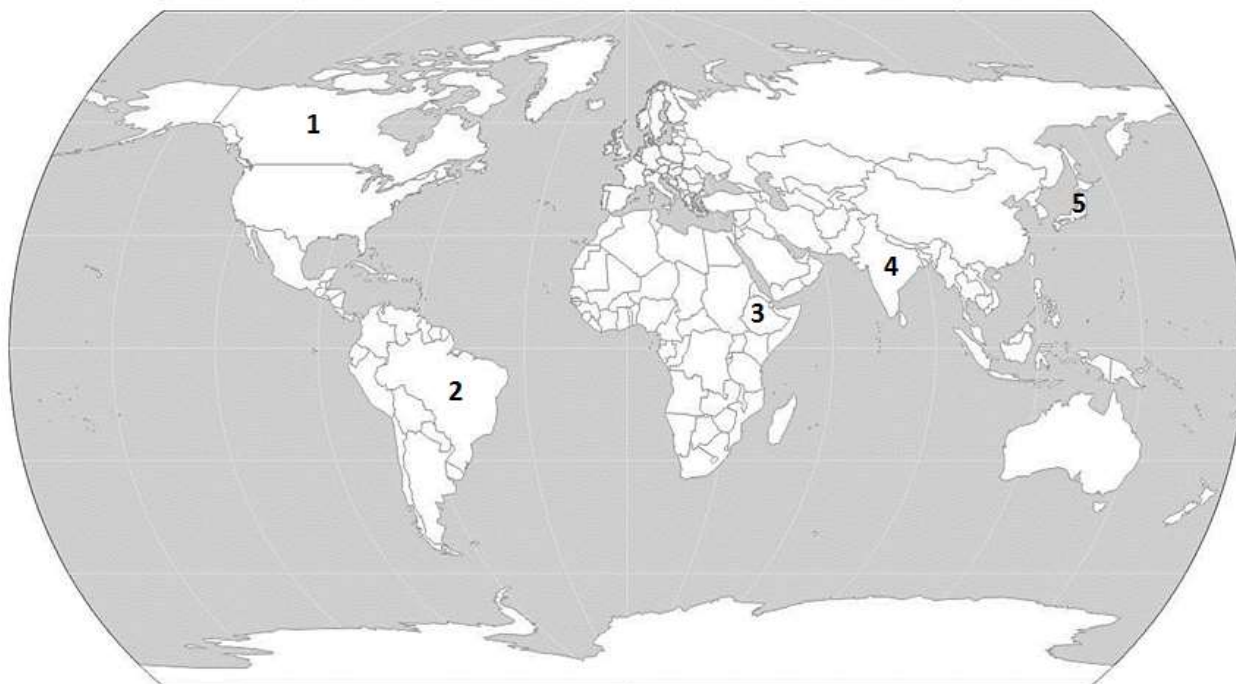
Do wymienionych w tabeli regionów geograficznych Polski dopisz nazwy jaskiń tam występujących, wybierając spośród podanych poniżej. Jedna z jaskiń pozostanie bez przyporządkowania.

Jaskinia Raj, Jaskinia Łokietka, Jaskinia Niedźwiedzia, Jaskinia Wielka Śnieżna

I.p.	Region geograficzny	Nazwa jaskini
1.	Sudety	
2.	Góry Świętokrzyskie	
3.	Ojcowski Park Narodowy	

Zadanie 31. (2 p.)

Zapisz nazwy państw oznaczonych na mapie numerami (1-5).



- 1 – _____
- 2 – _____
- 3 – _____
- 4 – _____
- 5 – _____

Brudnopis (nie jest oceniany)